




De Blois à Paris il y a ...


- 200 cm
- 200 kg
- 200 m
- 200 km



Noé
117 cm

Noa
1 m 12

Qui est le plus grand ?



poulet
780 g

canard
1 kg

Qui est le moins lourd ?




Mon livre mesure ...

- 22 cm
- 22 kg
- 22 m
- 22 g



Mon livre pèse ...


- 200 m
- 200 kg
- 200 g
- 2 g



crocodile
5 m

girafe
480 cm

Qui est le plus grand ?




Le cheval pèse...

- 450 g
- 450 cm
- 450 kg



La coccinelle mesure...

- 1 m
- 1 km
- 1 cm



ananas
1 kg100g

melon
920 g

Qui est le plus lourd ?

IPO TÂME devinmâths 10 AH



Pour traverser la cour, je mets....

2 heures
2 minutes
2 jours

IPO TÂME devinmâths 11 AH



vaisselle
58 min

voiture
1 h

Qu'est-ce qui dure le plus longtemps ?

IPO TÂME devinmâths 12 AH



courses
1 h 10 min

repasser
65 min

Qu'est-ce qui dure le moins de temps ?

IPO TÂME devinmâths 13 AH



Le film au cinéma a duré ...

1 h 30
1 min
8 h


IPO TÂME devinmâths 14 AH



Renard fait une course de 30 km, il met ...

1 min
2 heures
90 heures

IPO TÂME devinmâths 15 AH




cactus
2 m 05cm

dragon
210 cm

Qui est le plus grand ?


IPO TÂME devinmâths 16 AH



Un boa mesure ...

3 cm
3 m
3 km


IPO TÂME devinmâths 17 AH



Un éléphant pèse ...

6 kg
60 g
6 tonnes

IPO TÂME devinmâths 18 AH



La tortue fait une course, elle part à 13h 30 et elle arrive à 14 h.

Combien de temps dure sa course ?



La sirène va se baigner à 10 h, elle nage pendant 1h et quart .


A quelle heure va-t-elle rentrer ?



Léo
7 kg 100g

Léa
7000 g

Qui porte la pile la moins lourde ?



éléphant en vélo
2 h 30 min

vautour en patins
120 min

Qui a gagné ?



Le poids de cette armoire ...

10 g
5 kg
50 kg



Se brosser les dents, c'est ...

3 min
3 secondes
3 heures



La vipère

Le sanglier

Qui pèse 100 grammes ?



Une souris mesure ...

8 cm
8 m
8 km



La distance Paris Londres ...

465 m
465 cm
465 km



porc

cochon d'inde

Qui pèse 150 kg ?



Pour jouer au foot,
18 moutons font
2 équipes.

Combien y a-t-il de mou-
tons dans chaque équipe ?



Une tribu de 24 poux a
décidé de faire des
groupes identiques et
d'habiter dans la tête de
4 enfants.

Combien de poux aura
chaque enfant ?



Si un chat mange 24
croquettes par jour.

Combien de croquettes
faudra-t-il par jour pour
5 chats ?



La fourmi a fait ses
réserves. Elle a rangé
60 grains de riz dans
trois cartons.

Combien de grains de riz y
a-t-il dans chaque carton ?




Une sauterelle fait 4
bonds de 30 cm.

Quelle distance a-t-elle
parcourue ?



Quand je pèle 1 pom-
me, je fais une épluchure
de 25 cm de long.

Combien de pommes dois-
je éplucher pour avoir 1 m
d'épluchures ?



Pour transformer un
crapaud en prince char-
mant, il faut 5 bisous.

Combien de bisous faut-il
pour transformer 8 crapauds
en princes charmants ?



Si une chenille
s'achète 27 paires de
chaussures.

Combien a-t-elle de
pattes ?



Si Brutus lit 4 pages en
une heure...

Combien de pages aura-t-il
lu en une journée entière ?



<http://eps.roudneff.com>

Pour faire une pyramide
il faut 5 guêpes.

Combien de pyramides peut
-on faire avec 25 guêpes ?



Si une vache produit
20 litres de lait par jour.

Combien de litres auras-tu
à la fin de la semaine ?



La sorcière fait 20 km
en une heure avec
son balai.

Combien de kilomètres
fera-t-elle en 5 heures ?



7 vaches se
promènent dans
un pré.

Combien y a-t-il de pattes ?




Dans une pizza
Tinours a fait 8 parts.

Combien de parts fera-t-il
faire avec 10 pizzas ?




Si une araignée a
8 pattes.

Combien y aura-t-il de
pattes avec 4 araignées ?



Pour faire une pyramide
il faut 15 chiens.

Combien faut-il de chien
pour faire 3 pyramides ?



Une boîte
contient 6 œufs.

Combien faut-il de boîtes
pour ranger 30 œufs ?



Si une saucisse
mesure 12 cm

Combien de saucisses faut-
il pour avoir 60 cm ?



Popeye achète
18 boîtes d'épinards. A
midi il mange 11 boîtes

Combien lui reste-t-il de
boîtes pour le dîner ?



Si un coq fait 5
« cocorico !!! » par jour.

Combien de « cocorico »
aura-t-il fait en une
semaine ?



Taz pèse 85 kg et son
amoureuse 63 kg.

Quel est leur différence de
poids ?



Cette vache a fait 12 km
en rollers lundi, 13 km
mardi et 8 km mercredi .

Combien de km a-t-elle
fait au total ?



Si Moustache fait tous
les matins 20 fois le tour
de sa niche.

Combien de tours aura-t-
il fait au bout de 4 jours ?



Si le nez de Pinocchio,
s'allonge de 3 cm à
chaque mensonge .

Quelle sera la longueur de
son nez après 15 mensonges ?



Une cigogne doit livrer
son paquet à 18 km .

Combien de km va-t-elle
faire pour l'aller-retour ?




Une poule avait 950
plumes, il ne lui en reste
que 150 .

Combien lui manque-t-il
de plumes ?



Petit poucet avait 89
graines dans son sac, il
en sème 5 dizaines.

Combien lui en reste-t-il ?




Je suis un nombre à 2 chiffres.
Mon chiffre des dizaines est le même que celui des unités.
Je suis entre 25 et 35

J'ai combien de dents ?



Je suis un nombre à 2 chiffres.
Mon chiffre des dizaines est le plus petit des chiffres impairs,
mon chiffre des unités est le plus grand des chiffres pairs.

J'ai combien d'images ?



Compte de 5 en 5 en partant de 0, et tu me trouveras entre 32 et 39.

Quel est mon numéro ?




le nombre de poissons pris

Je suis un nombre à 2 chiffres.
Mon chiffre des dizaines est le double de 4,
mon chiffre des unités est le double de 3.

Je vais pêcher le nombre...

la taille en cm de Bob



Pour connaître ma taille. Compte de 10 en 10 en partant de 2.
Je suis plus grand que 74 et plus petit que 89.

Je mesure...



nombre de bougies


Je suis un nombre à 2 chiffres.
Mon chiffre des unités est la moitié de 10,
mon chiffre des dizaines est la moitié de 4.

Combien faut-il de bougies ?



Mon chiffre des dizaines est impair, il est plus petit que 5 mais plus grand que 1.
Mon chiffre des unités est le double de celui des dizaines.

Combien de fourmis ?



J'ai la moitié de l'âge de mon père qui a 46 ans

J'ai quel âge ?



L'âge de mon voisin est le plus grand nombre à deux chiffres.

Quel âge a-t-il ?



Je suis entre 200 et 300.
Mon chiffre des unités est 2.
Mon chiffre des dizaines est 3 fois plus grand que celui des unités.

Qui suis-je ?



nombre de km de la course

Le chiffre des centaines est le plus petit des chiffres impairs, le chiffre des unités est le plus grand des chiffres pairs. Je n'ai pas de dizaine.

Combien de km fait cette course ?



n° ?
rue du jeu

Pour me connaître retire 3 dizaines au plus grand nombre à 2 chiffres.

Je suis au n° ?



nombre de taches de la girafe

Mon nombre est dans la famille de 40. Quand j'ajoute 4 au chiffre des unités j'obtiens 7.

Elle a combien de taches ?

la hauteur en m de la tour Eiffel



Mon nombre de dizaines est la moitié de 64. Mon chiffre des unités est le double du chiffre de dizaines.

Je mesure...

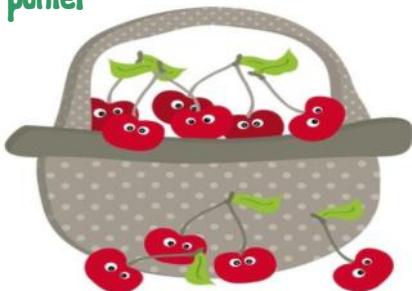


nombre de pages du livre.

Je suis un nombre à 2 chiffres.
Mon chiffre des unités est le double de 3,
mon chiffre des dizaines est la moitié de 8.

Il y a combien de pages ?

Nombre de cerises dans le panier



Mon nombre se termine par 4, et il a 21 dizaines

Combien y a-t-il de cerises ?

taille en cm de la queue



J'ai 34 dizaines, mon chiffre des unités est le double de celui des centaines

Elle mesure... cm

longueur en cm du balai



Compte de 10 en 10 en partant de 7. Je suis entre 79 et 95

La taille du balai est de...




nombre de
plumes
du paon

Mon chiffre des centaines est le plus petit chiffre impair. Je n'ai pas d'unité. Mon chiffre des dizaines est la moitié de 6.

Combien ai-je de plumes ?


durée de vie de la baleine



Je n'ai pas de 0. Mon chiffre des unités est le plus petit chiffre pair. Mon chiffre des dizaines est la moitié de 16.

Je peux vivre ...


durée de vie en mois d'un piquant du hérisson.



Je suis la moitié de 36

Le piquant dure ...

Taille de l'éléphant en cm



Pour trouver le nombre de dizaines compte de 5 en 5 en partant de 15, je suis entre 31 et 39. Mon chiffre des unités est 0.

Je mesure ... cm

L'âge de
super
mâmie



Mon chiffre des unités est 3, et je suis entre 88 et 96.

J'ai ... ans

Nombre
de pièces
d'or



Mon chiffre des dizaines est le double de 2, mon chiffre des unités est la moitié de 14.

Combien de pièces y a-t-il ?



Durée
moyenne
de vie de
la tortue.

Je suis un nombre pair entre 43 et 60. Tu me trouveras en comptant de 5 en 5 à partir de 17.

Je vis en moyenne ... ans.


Nombre
d'œufs
pondu
par mois



Je suis le double de 14.

J'ai pondu ... œufs.

Nombre de
pommes
dans le
pommier



Mon chiffre des unités est la moitié de 10. Je suis entre 76 et 92.

Il y a ... pommes .

devinâts mesures

n°	réponses
1	
2	
3	
4	
5	
6	
7	
8	
9	
10	
11	
12	
13	
14	

n°	réponses
15	
16	
17	
18	
19	
20	
21	
22	
23	
24	
25	
26	
27	
28	
T	

devinâts énigmes

n°	réponses
1	
2	
3	
4	
5	
6	
7	
8	
9	
10	
11	
12	
13	
14	

n°	réponses
15	
16	
17	
18	
19	
20	
21	
22	
23	
24	
25	
26	
27	
28	
T	

devin maths nombres

n°	réponses
1	
2	
3	
4	
5	
6	
7	
8	
9	
10	
11	
12	
13	
14	

n°	réponses
15	
16	
17	
18	
19	
20	
21	
22	
23	
24	
25	
26	
27	
28	
7	

devin maths

Prénom :

Total de points :

Mesures	
Enigmes	
Nombres	
Total	

devinmàths 1

200 km

devinmàths 2

Noé

devinmàths 3

le poulet

devinmàths 4

22 cm

devinmàths 5

200 g

devinmàths 6

le crocodile

devinmàths 7

450 kg

devinmàths 8

1 cm

devinmàths 9

le crocodile

devinmàths 10

2 minutes

devinmàths 11

la voiture

devinmàths 12

repàsser

devinmàths 13

1 h 30 min

devinmàths 14

2 heures

devinmàths 15

le dragon

devinmàths 16

3 m

devinmàths 17

6 tonnes

devinmàths 18

30 min

devinmàths 19

11 h et quàrt

devinmàths 20

Léa

devinmàths 21

le vàtòur

devinmàths 22

50 kg

devinmàths 23

3 min

devinmàths 24

la vipère

devinmàths 25

8 cm

devinmàths 26

465 km

devinmàths 27

le porc

devinmàths 1

9 moutons

devinmàths 2

6 poux

devinmàths 3

120 croquettes

devinmàths 4

20 gràins de riz

devinmàths 5

120 cm

devinmàths 6

4 pommes

devinmàths 7

40 bisous

devinmàths 8

54 pàttes

devinmàths 9

96 pàges

devinmàths 10

5 pyramides

devinmàths 11

140 litres

devinmàths 12

100 km

devinmàths 13

28 pàttes

devinmàths 14

80 pàrts

devinmàths 15

32 pàttes

devinmàths 16

45 chiens

devinmàths 17

5 boîtes

devinmàths 18

5 saucisses

devinmàths 19

7 boîtes

devinmàths 20

35 « cocorico »

devinmàths 21

22 kg

devinmàths 22

33 km

devinmàths 23

80 tours

devinmàths 24

45 cm

devinmàths 25

36 km

devinmàths 26

800 plumes

devinmàths 27

39 gràines

devinmaths 1

33 dents

devinmaths 2

18 images

devinmaths 3

n° 35

devinmaths 4

86 poissons

devinmaths 5

82 cm

devinmaths 6

25 bougies

devinmaths 7

36 fourmis

devinmaths 8

23 ans

devinmaths 9

99 ans

devinmaths 10

242

devinmaths 11

108 km

devinmaths 12

n° 69

devinmaths 13

43 taches

devinmaths 14

324 m

devinmaths 15

46 pages

devinmaths 16

214 cerises

devinmaths 17

346 cm

devinmaths 18

87 cm

devinmaths 19

130 plumes

devinmaths 20

82 ans

devinmaths 21

18 mois

devinmaths 22

350 cm

devinmaths 23

93 ans

devinmaths 24

47 pièces

devinmaths 25

52 ans

devinmaths 26

28 oeufs

devinmaths 27

85 pommes